

# Karta pracy *Elementy rysunku technicznego*


imię i nazwisko	
klasa	data

1. Nazwij podane przykłady linii używanych w rysunku technicznym. Określ zastosowanie każdej z nich.

- a) ————— Linia .....  
 Zastosowanie: .....
- b) ————— Linia .....  
 Zastosowanie: .....
- c) - - - - - Linia .....  
 Zastosowanie: .....
- d) — — — — — Linia .....  
 Zastosowanie: .....

2. Ustal i zapisz wymiary gumki do ścierania oraz paczki chusteczek higienicznych. Następnie oblicz długość, szerokość i wysokość tych przedmiotów w podziałkach 2:1 oraz 1:2.

a)



podziałka 1:1

długość .....

szerokość .....

wysokość .....

podziałka 2:1

długość .....

szerokość .....

wysokość .....

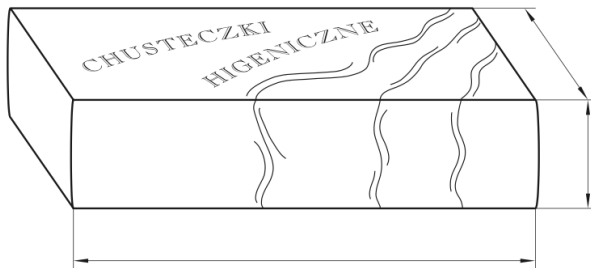
podziałka 1:2

długość .....

szerokość .....

wysokość .....

b)



podziałka 1:1

długość .....

szerokość .....

wysokość .....

podziałka 2:1

długość .....

szerokość .....

wysokość .....

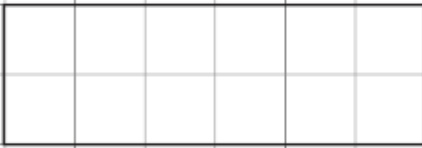
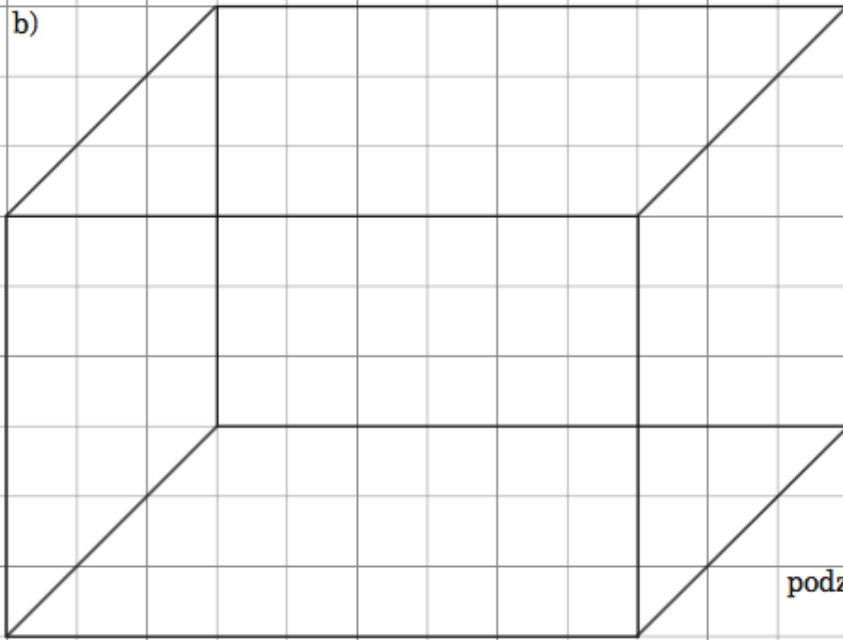
podziałka 1:2

długość .....

szerokość .....

wysokość .....

3. Narysuj figurę i bryłę w podanych podziałkach.

a)	
podziałka 2:1	
podziałka 1:2	
b)	
	podziałka 1:3